

Оролцож байгаа төрөл

Техникийн зураг зүй 10-р анги

Даалгавар гүйцэтгэх хугацаа:

Даалгавар эхлэх хугацаа 10.00 цаг

Дуусгах хугацаа 11.30 минут

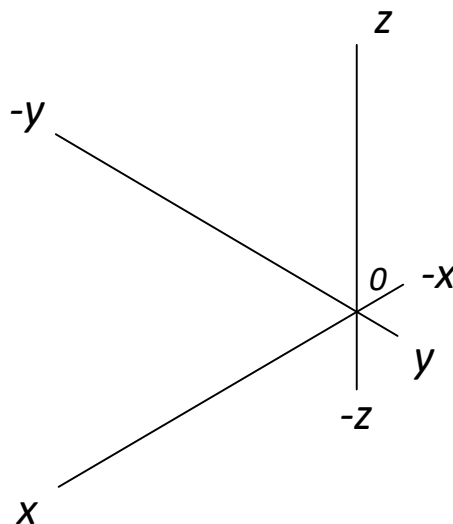
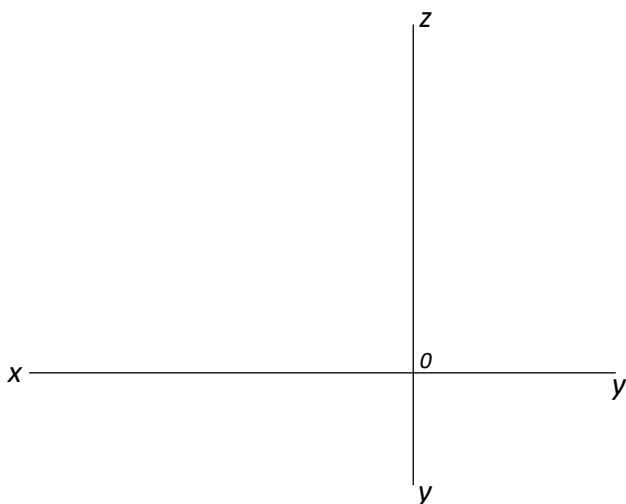
Мэйл илгээсэн байх сүүлийн хугацаа: 2026 оны 03-р сарын 06-ны 12 цаг 00 минут

Бүтээл илгээх хаяг: [adilaaaltaa@gmail.com](mailto:adilaaaltaa@gmail.com)

- Даалгаварын зургийг 2-3 хувилбараар авч илгээнэ. Үүнд: Ажлыг ерөнхийд нь харуулсан зураг, хэсэгчилж томруулан авсан зураг, ажлын бүх хуудсыг багтаасан ерөнхий зураг)
- Гүйцэтгэх явцын бичлэгийг 60-70х хурдтай хурдасгасан бичлэг MP4 өргөтгөлөөр илгээнэ.
- Даалгаварын хаяг, гүйцэтгэсэн тайлбар бичгийг PDF өргөтгөл болгон илгээнэ. Энэхүү тайлбар бичигт даалгаварт мэдээлллийн хэрэгсэл, ном материал ашигласан бол жагсаалтыг бичнэ.

### АСУУЛТ, ДААЛГАВАРЫН ӨГӨГДӨЛ:

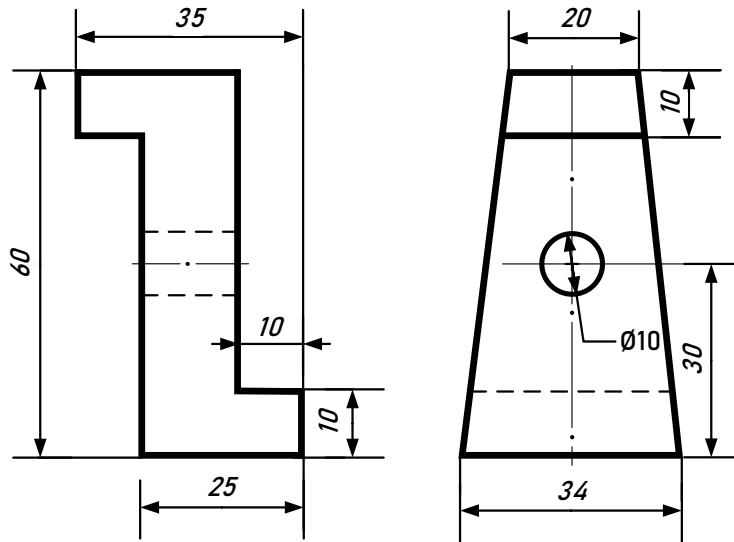
1. Проекцийн нүүрний хавтгайгаас 30 мм зайтай, 69 мм урттай, II-р мөчид орших нүүрний түвшний шулууны проекцийг байгуулаарай. Мөн дүрс зургийг зурна уу.



Үнэлгээний шалгуурын үзүүлэлт:

№	Шалгуурын агуулга	Онооны хувь	тайлбар
Даалгавар 1			
1	Шулууны проекц дүрслэлийг зөв дүрсэлсэн.	20	
2	Тэмдэглэгээг зөв тавьсан.	10	
3	Хэмжээний дагуу шулууны проекцийг байгуулсан.	15	
4	Тодруулалт, гүйцэтгэл	5	
5	Нийт оноо	50	

2. Өгсөн деталийн дутуу проекцыг гүйцээж аксонометр проекцыг изометр тэнхлэг дээр байгуулаарай.



Үнэлгээний шалгуурын үзүүлэлт:

№	Шалгуурын агуулга	Онооны хувь	тайлбар
Даалгавар 2			
1	Деталийн дутуу проекцийн дүрслэл	10	
3	Хэмжээ тавих	5	
4	Аксонометр дүрслэл	20	
5	Тодруулалт, гүйцэтгэл	5	
6	И-Мэйлээр илгээх зургийг илээсэн байдал	10	
	Нийт оноо	50	

Проект дүрслэлийн зургийг авч илгээхдээ анхаарах зүйлс

- Бүх зурсан зургаа нийтэд нь авсан зураг байх
- Тус бүрд нь авсан 1 хувь зураг байх
- Нэг и-мэйл дотор бүх зургийг багтааж илгээнэ.

Жич: Олон дахин ижил зураг авахгүй байх.