

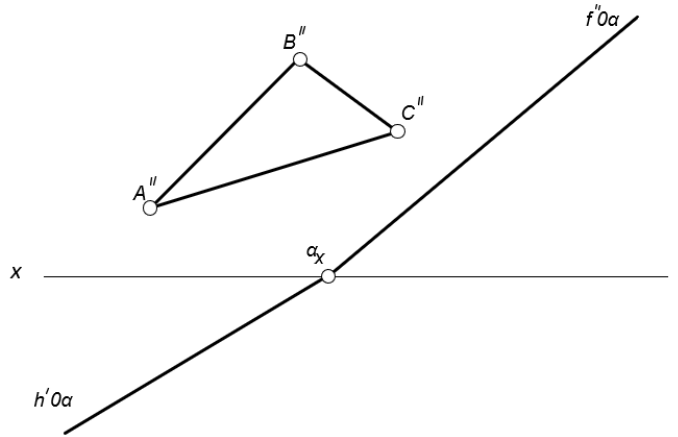
Оролцож байгаа төрөл **Техникийн зураг зүй 11-р анги**
 Даалгавар гүйцэтгэх хугацаа: **Даалгавар эхлэх хугацаа 10.00 цаг**
Дуусгах хугацаа 12.00 цаг

Мэйл илгээсэн байх сүүлийн хугацаа: **2026 оны 04-р сарын 04-ны 13 цаг 00 минут**
 Бүтээл илгээх хаяг: **adilaaaltaa@gmail.com**

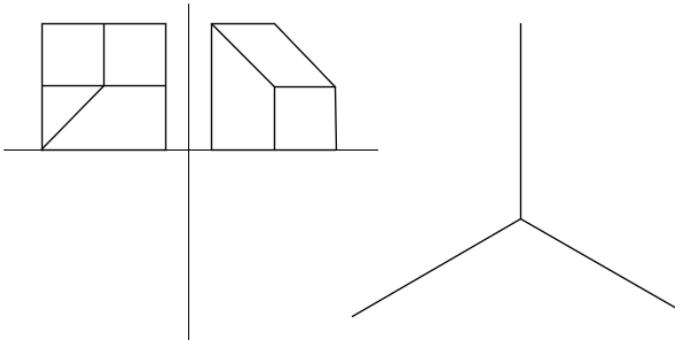
АСУУЛТ, ДААЛГАВАРЫН ӨГӨГДӨЛ:

1. Мөр нь байгуулагдсан ABC хавтгайн хэвтээ проекцийг байгуулж мөрөөр эргүүлэх аргаар үнэн бодит хэмжээг тодорхойлно уу.

№	Шалгуурын агуулга	Онооны хувь
Даалгавар 1		
1	ABC Хавтгайн хэвтээ проекцийн зөв байгуулалт.	15
2	Тэмдэглэгээг зөв тавьсан.	5
3	Дүрс зургийг зөв байгуулсан	15
4	Тодруулалт, гүйцэтгэл	5
Нийт оноо		40

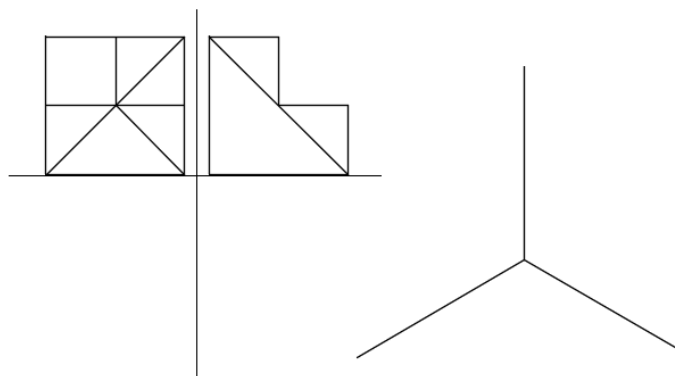


2. Өгсөн деталийн дутуу проекцыг гүйцээж аксонометр проекцыг изометр тэнхлэг дээр байгуулаарай.



№	Шалгуурын агуулга	Онооны хувь
Даалгавар 2		
1	Деталийн дутуу проекцийн дүрслэл	10
2	Аксонометр дүрслэл	10
3	Тодруулалт, гүйцэтгэл	5
4	И-Мэйлээр илгээх зургийг илгээсэн байдал	5
Нийт оноо		30

3. Өгсөн деталийн дутуу проекцыг гүйцээж аксонометр проекцыг изометр тэнхлэг дээр байгуулаарай.



№	Шалгуурын агуулга	Онооны хувь
Даалгавар 3		
1	Деталийн дутуу проекцийн дүрслэл	10
2	Аксонометр дүрслэл	10
3	Тодруулалт, гүйцэтгэл	5
4	И-Мэйлээр илгээх зургийг илгээсэн байдал	5
Нийт оноо		30